

Занимательные задания по математике

Задание 1. «Посмотри и правильно ответь»

Посмотрите на картинку внимательно и ответьте на следующие вопросы.



Кто нарисован в центре картинке?

Что нарисовано слева на этой картинке?

Кто нарисован справа на этой картинке?

Какие игрушки нарисованы спереди?

Что нарисовано сзади?

Какие игрушки нарисованы слева, перечисли их?

Какие игрушки нарисованы справа, перечисли их?

Задание 2. «Посмотри и ответь правильно»

Рассмотрите следующую картинку и ответьте на вопросы.



На картинке есть красная пирамидка?

Какого цвета нарисована пирамидка слева?

Какого цвета нарисована пирамидка справа?

Перечисли, каких цветов пирамидки нарисованы на картинке?

Задание 3. «Ответь правильно на вопросы»

Посмотрите внимательно на следующую картинку. Здесь нарисовано три машины. Ответьте внимательно на следующие вопросы.



- Какие цвета есть на полицейской машине?
Какого цвета мигалка на полицейской машине?
Какие цвета есть на машине скорой помощи?
Каким цветом колеса скорой помощи?
Какие цвета есть на пожарной машине?
Каким цветом мигалка пожарной машины?

Задание 4. «Посчитай и правильно ответь»

Найди все фрукты, которые нарисованы по одной штуке.



Найди все фрукты, которые нарисованы по две штуки.



На этой картинке есть четыре ромашки?



Сколько орехов на этой картинке?



Задание 5. «Учим фигуры»

Очень важно дошкольнику 5 - 6 лет знать фигуры. Многие дети к этому возрасту знают, что такое квадрат, круг, прямоугольник, треугольник, овал, многоугольник и ромб. Рассмотрим все фигуры и потренируемся на упражнениях.

Квадрат



Прямоугольник



Треугольник



Круг




Овал



Ромб

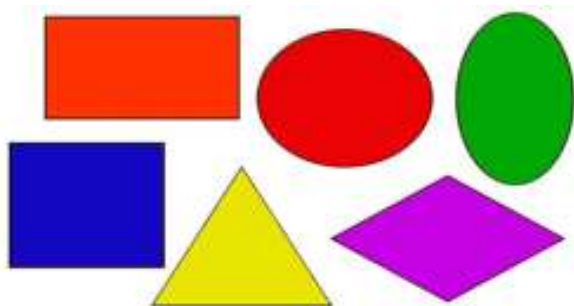


Многоугольник



Задание 6. «Посмотри и ответь»

В этом упражнении даны фигуры, посмотрите на них внимательно и ответьте на следующие вопросы.



Сколько изображено прямоугольников?

Сколько изображено фигур всего?

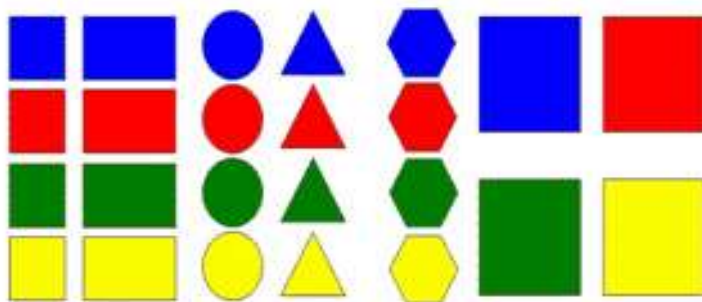
Какая фигура изображена желтым цветом?

Сколько фигур красного цвета?

Какая фигура изображена, синим цветом?

Сколько фигур зеленого цвета?

Задание 7. «Рассмотри и правильно ответь на вопросы»



Сколько треугольников на этой картинке?

Сколько всего красных фигур?

Сколько квадратов нарисовано на этой картинке?

Сколько всего желтых фигур?

Сколько прямоугольников нарисовано синего цвета?

Сколько треугольников нарисовано желтого цвета?

Сколько всего синих фигур?

Сколько квадратов синего цвета?

Сколько многоугольников на этой картинке?